

Darüssafaka  
1863 EĞİTİM  
KURUMLARI

**Genel Yetenek Testi**  
**Örnek Soru Çözümleri**

1

1	
4	Çok Sıcak
2	Soğuk
3	Sıcak
1	Çok Soğuk

2	
A	Çorba
D	Kutuplar
B	Yanardağ
C	Sonbahar

Yukarıda yer alan 1. ve 2. kutudakiler aşağıdakilerden hangisinde doğru olarak eşleştirilmiştir?

A) 4-B, 2-C, 3-A, 1-D

B) 4-A, 2-B, 3-C, 1-D

C) 4-B, 2-A, 3-D, 1-C

D) 4-B, 2-C, 3-D, 1-A

### ÇÖZÜM

Doğru cevap (A) seçeneğidir.


A-Çorba sıcak bir yemektir. 3-Sıcak ile eşleştirilir.

B-Yanardağ çok sıcaktır. 4-Çok sıcak ile eşleştirilir.


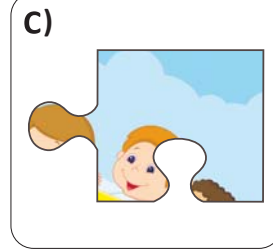
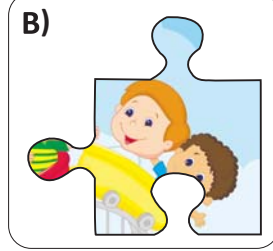
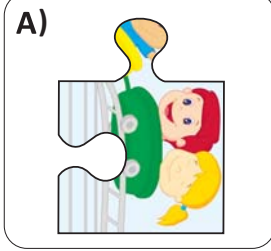
C-Sonbahar soğuk bir mevsimdir. 2-Soğuk ile eşleştirilir.

D-Kutuplar çok soğuk bir yerdir. 1-Çok soğuk ile eşleştirilir.

2



Yukarıdaki resimdeki boşluğa aşağıdaki parçalardan hangisi gelmelidir?



**ÇÖZÜM**

Doğru cevap **(B)** seçeneğidir.

A seçeneğindeki resimde bulutlardan bir parça olmadığı için boşluğa yerleştirilemez. C seçeneğinde parçanın üst bölümü düz olduğu için yerleştirilemez. D seçeneğinde ise sorudaki resmin aynısı yer almaktadır. Resimdeki boşluğa gelecek uygun parça "B" seçeneğidir.

**3**

Ceyda'nın ders çalışırken aşağıdakilerden hangisine ihtiyacı vardır?

A) Basketbol topu

B) Kitap

C) Oyun dergisi

D) Bilgisayar oyunu

**ÇÖZÜM**

Doğru cevap **(B)** seçeneğidir.

Ders çalışırken basketbol topu, oyun dergisi ve bilgisayar oyununa ihtiyaç yoktur. Ancak Ceyda'nın ders çalışırken kitaba ihtiyacı vardır.

4

Bu dönem derslerime çok çalışıp sınavlardan ..... not almalıyım. Derslerimde başarılı olursam çok istediğim telefon alınacak, bana. Yaz tatilinde de teyzelere gideceğimi öğrenince çok sevindim. Kuzenlerimle birlikte tatil yapacağım için çok ..... Tatil için şimdiden alışverişe başladık. Kendime şort, tişört ve ..... aldım. Kuzenlerime de çeşitli hediyeler aldık.

Yukarıdaki cümlede boş bırakılan yerlere sırasıyla hangileri gelmelidir?

- A) Düşük - Telaşlandım - Terlik      B) Yüksek - Sinirlendim - Şapka  
C) Yüksek - Mutluyum - Terlik      D) Düşük - Üzüldüm - Şapka

**ÇÖZÜM**

Doğru cevap (C) seçeneğidir.

Cümlede boş bırakılan yerlere gelecek en uygun kelimeler sırasıyla yüksek, mutluyum ve terlik sözcükleridir.

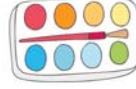
5



1



2



3



4



5



6



7



8

Yukarıda okul araç ve gereçleri numaralandırılmıştır. Ahmet çantasına kitap, kalem, elma ve silgi koyacaktır. Buna göre Ahmet'in çantasına yerleştirmesi gereken araç ve gereçler aşağıda hangi şıkta doğru verilmiştir?


- A) 1 - 3 - 4 - 6    B) 2 - 4 - 6 - 7    C) 2 - 4 - 5 - 8    D) 2 - 3 - 6 - 7

**ÇÖZÜM**

Doğru cevap (B) seçeneğidir.

Kitap 2'yle, kalem 6'yla, elma 4'le, ve silgi 7'yle numaralandırılmıştır. Bu numaraların hepsi B seçeneğinde yer almaktadır.

6



Yukarıdaki sayı dizisinde bir sayı kuralı bozmaktadır. Bu sayı hangisidir?

A) 20

B) 26

C) 28

D) 32

**ÇÖZÜM**

Doğru cevap **(B)** seçeneğidir.

Sayılar 4'er 4'er artmaktadır. Bu durumda 20'den sonra 24 gelmesi gerekirken 26 gelmiştir. Kuralı bozan sayı 26'dır.

7



Aşağıdakilerden hangisi yukarıda yer alan kekler arasında bulunmamaktadır?

A)



B)



C)



D)



**ÇÖZÜM**

Doğru cevap (C) seçeneğidir.

A seçeneğindeki kek en alt sırada solda bulunmaktadır. B seçeneğindeki kek orta sırada solda bulunmaktadır. D seçeneğindeki kek en alt sırada en sağda bulunmaktadır. Ancak C seçeneğindeki kek hiçbir sırada bulunmamaktadır.



8

G	E	K	L	U	D
E	T	T	N	İ	S
K	S	A	E	L	E
Y	İ	E	R	M	F
A	H	D	İ	A	R
M	U	İ	P	Ş	K

Yukarıdaki harf tablosunda dikey, yatay ya da çapraz olarak aşağıdaki kelimelerden hangisi bulunmaktadır?

A) ETEK

B) KABA

C) TARAK

D) RADAR

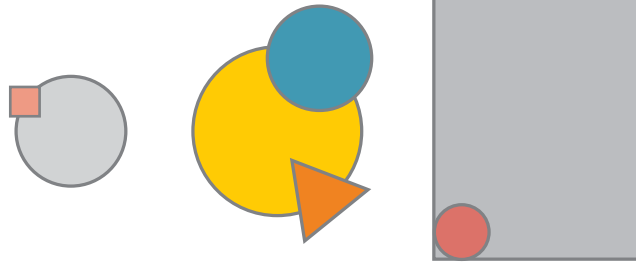
**ÇÖZÜM**

Doğru cevap (C) seçeneğidir.

Sağdaki şekilde görüldüğü üzere "tarak" kelimesi çapraz olarak tabloda yer almaktadır.

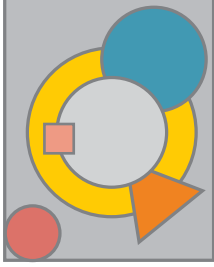
G	E	K	L	U	D
E	T	T	N	İ	S
K	S	A	E	L	E
Y	İ	E	R	M	F
A	H	D	İ	A	R
M	U	İ	P	Ş	K

9




Yukarıdaki şekiller üst üste getirildiğinde seçeneklerdeki şekillerden hangisi oluşur?

A)



B)



C)



D)



**ÇÖZÜM**

Doğru cevap (C) seçeneğidir.

A seçeneğinde kırmızı karenin yeri yanlıştır. B seçeneğinde mavi daire gri dairenin üzerine geldiği için yanlıştır. D seçeneğinde ise kırmızı dairenin yeri yanlıştır. Şekiller üst üste getirildiğinde oluşacak doğru şekil C seçeneğinde olduğu gibidir.

10

Aşağıdaki tabloda öğrencilerin derslerden 1. ve 2. sınavda aldığı notlar yer almaktadır. 5 en yüksek not, 1 en düşük nottur.

Öğrenciler	Matematik		Türkçe		Sosyal Bilgiler		Fen	
	1.Sınav	2.Sınav	1.Sınav	2.Sınav	1.Sınav	2.Sınav	1.Sınav	2.Sınav
Ali	4	5	4	5	3	4	5	5
Ayşe	5	4	4	5	4	4	3	5
Berk	3	5	3	5	4	4	3	4
Buse	5	4	3	4	3	5	5	3

Buna göre aşağıdakilerden hangisi yanlıştır?

- A) Tüm öğrenciler Türkçe dersinden 2. sınavda 1. sınavla göre daha yüksek not almışlardır.
- B) Ali'nin ve Buse'nin 1. ve 2. sınavda Matematik dersinden aldıkları notların toplamı birbirine eşittir.
- C) Ayşe ve Berk'in Sosyal Bilgiler dersinden 1. ve 2. sınavda aldıkları notlar birbirinden farklıdır.
- D) Fen dersinden en düşük notları 1. sınavda Ayşe ve Berk, 2. sınavda Buse almıştır.

### ÇÖZÜM

Doğru cevap (C) seçeneğidir.

Ayşe ve Berk Sosyal Bilgiler dersinin 1. ve 2. sınavında aynı notu almışlardır.

